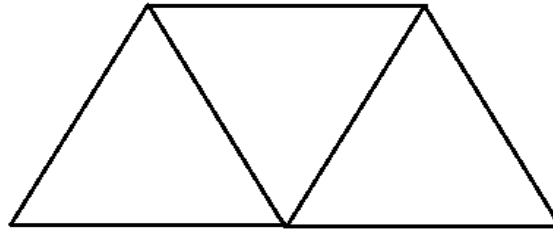




CP 2018 – 2019

Jour 1 : Les combinaisons

Laurence a trois crayons de couleur : un jaune, un rouge et un vert. Elle veut colorier ces trois triangles :



Attention : une couleur par triangle !

Trouve toutes les combinaisons de couleurs que Laurence peut réaliser.

Réponse : Il y a de combinaisons possibles

Jour 2 : Vélos et tricycles

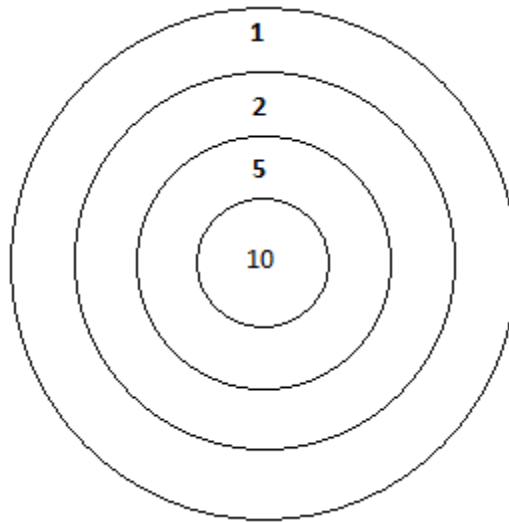
Sami a des vélos et des tricycles. Il compte 9 guidons et 22 roues.

Combien a-t-il de vélos et de tricycles ?



Réponse : Sami a vélos et tricycles

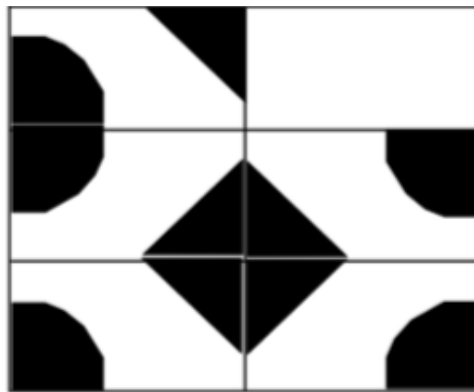
Jour 3 : La cible



Paolo a lancé 4 fléchettes. Il a marqué 21 points.

Indique avec une croix les endroits de la cible qu'il a touchés.

Jour 4 : le puzzle



Quelle pièce manque-t-il au puzzle ?

