



CM2 2018 – 2019

Jour 1 : Le nombre mystère

Ecrire le plus petit nombre entier de 6 chiffres dont la somme des chiffres est 19.

Réponse : le nombre recherché est :

Jour 2 : La tirelire



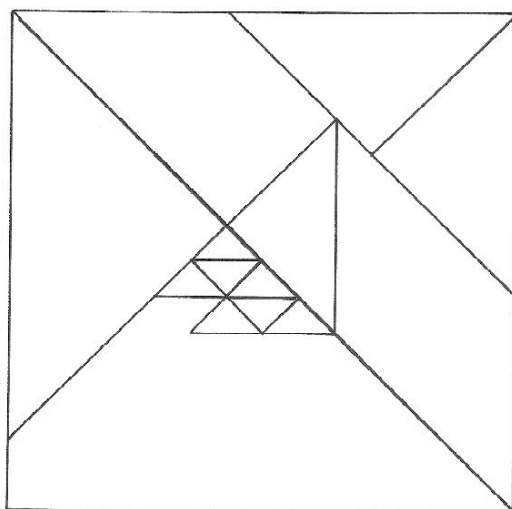
Dans ma tirelire, je n'ai que des pièces de 2 euros et des billets de 5 euros. J'ai compté 32 éléments de monnaie (pièces et billets). En tout j'ai 97 euros.

Combien y a-t-il de pièces de 2 euros et de billets de 5 euros dans ma tirelire?

Réponses : il y a pièces de 2 euros et

..... billets de 5 euros dans ma tirelire.

Jour 3 : Les triangles



Combien y a-t-il de triangles dans cette figure ?




Réponse : il y a triangles dans la figure.

Jour 4 : Les pots de confiture de mamie.



On a réparti 5,4 kg de confiture de cerise dans 19 pots de 3 tailles différentes. Sur chaque étagère, il y a exactement le même poids de confiture.

Quelle quantité de confiture chaque pot contient-il ?

 = kg  = kg  = kg