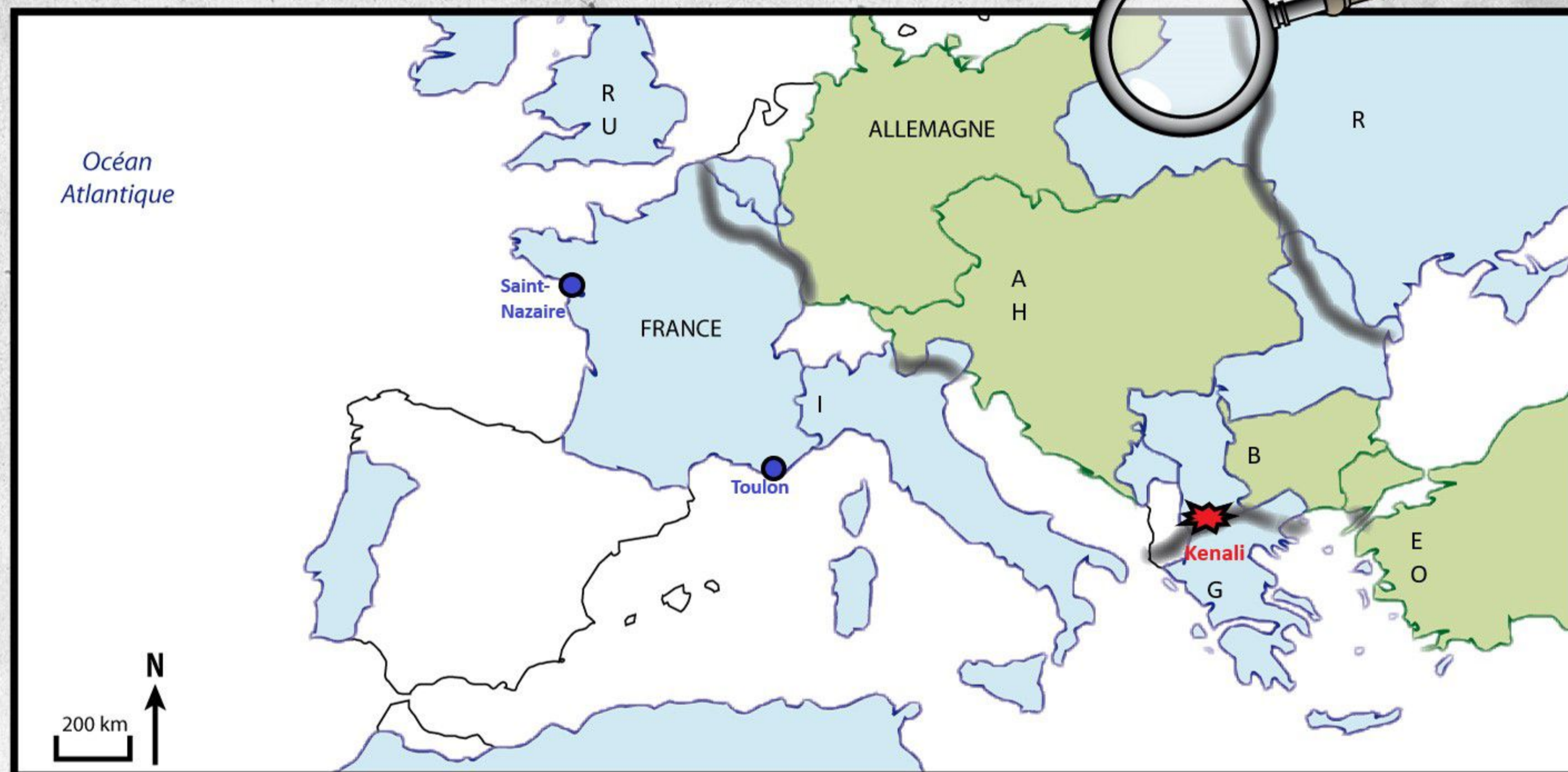
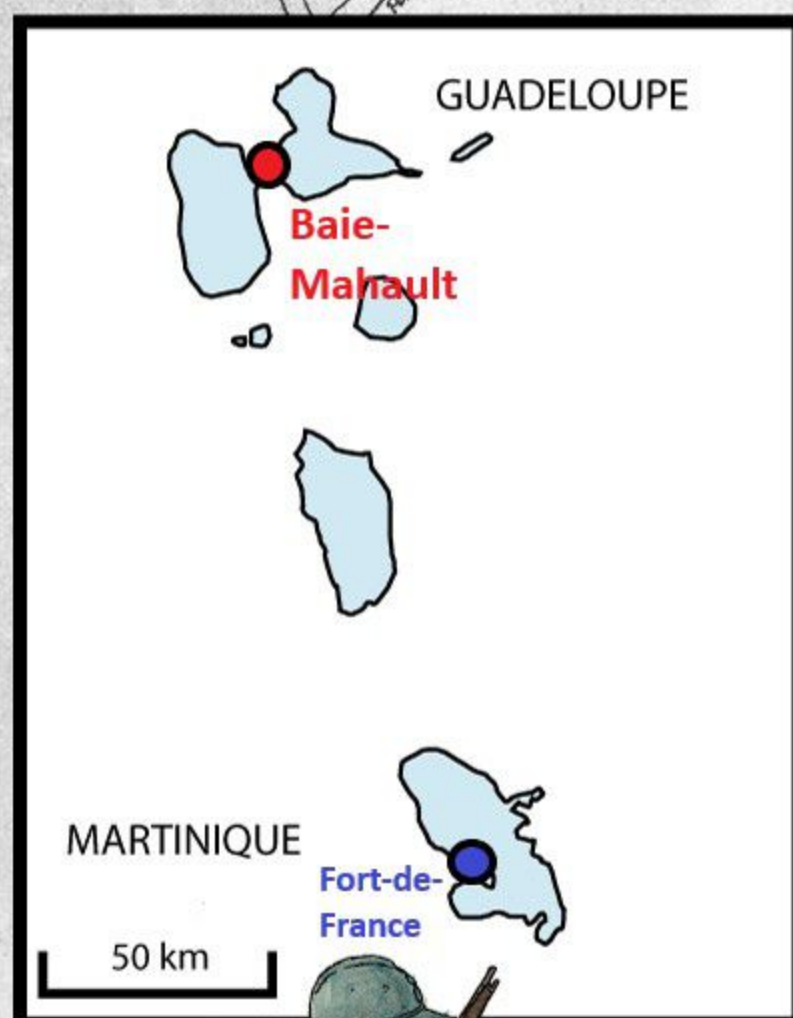




Sur les traces du soldat... *Magloire JASON*



Retracez l'itinéraire du soldat Magloire JASON pendant la guerre au fur et à mesure de vos recherches.

- Pour replacer cet itinéraire dans le contexte de la guerre, nommez au préalable les principaux pays entrés en guerre avec la France (en bleu et localisés par des lettres initiales) ainsi que ceux qui ont rejoint l'Allemagne (en vert et localisés par des lettres initiales)
- Localisez et nommez le front (zone des combats) le plus important de la guerre : le front Occidental (ou Ouest)
- En suivant ce livret vous pourrez repérer avec des points qui les localisent les **étapes du parcours** de Magloire JASON depuis sa commune de naissance, Baie-Mahault, jusqu'au lieu de son décès. Vous pouvez les associer sur la carte à une date ou tout autre commentaire que vous jugerez utile au fur et à mesure de vos découvertes puis relier ces étapes dans l'ordre chronologique par des flèches.



Acte 1 - L'itinéraire de Magloire JASON, un soldat français de Guadeloupe dans une guerre de dimension mondiale

Constituez la fiche individuelle du soldat Magloire JASON

⇒ **Éléments d'identité.**

Date et **lieu de naissance** :

Père :

Mère :

Profession :

Un élément de description physique, sa taille :

:

⇒ **Éléments de parcours militaire.**

Date et lieu d'incorporation (et âge correspondant) (Aide : réfléchissez à ce que peut bien signifier l'abréviation « Mque » alors que Guadeloupe est abrégée en « Gpe »)

Date et destination (à supposer) **d'embarquement** :

N° de matricule :

Grade dans l'armée :

Régiment(s) :

Date et lieu du dernier combat :

Date et lieu de décès (et âge correspondant) :



Parmi ces sources, soulignez celles qui vous permettent de constituer cette fiche pour le soldat Magloire JASON :

- acte de naissance - acte de décès - acte de mariage
- fiche matricule - fiche Mort pour la France
- Journal des Marches et Opérations (JMO) - Historiques régimentaires

⇒ Dater sur la carte de la première page du livret les lieux **correspondant aux origines et aux premières étapes du parcours militaire** du soldat Magloire JASON.

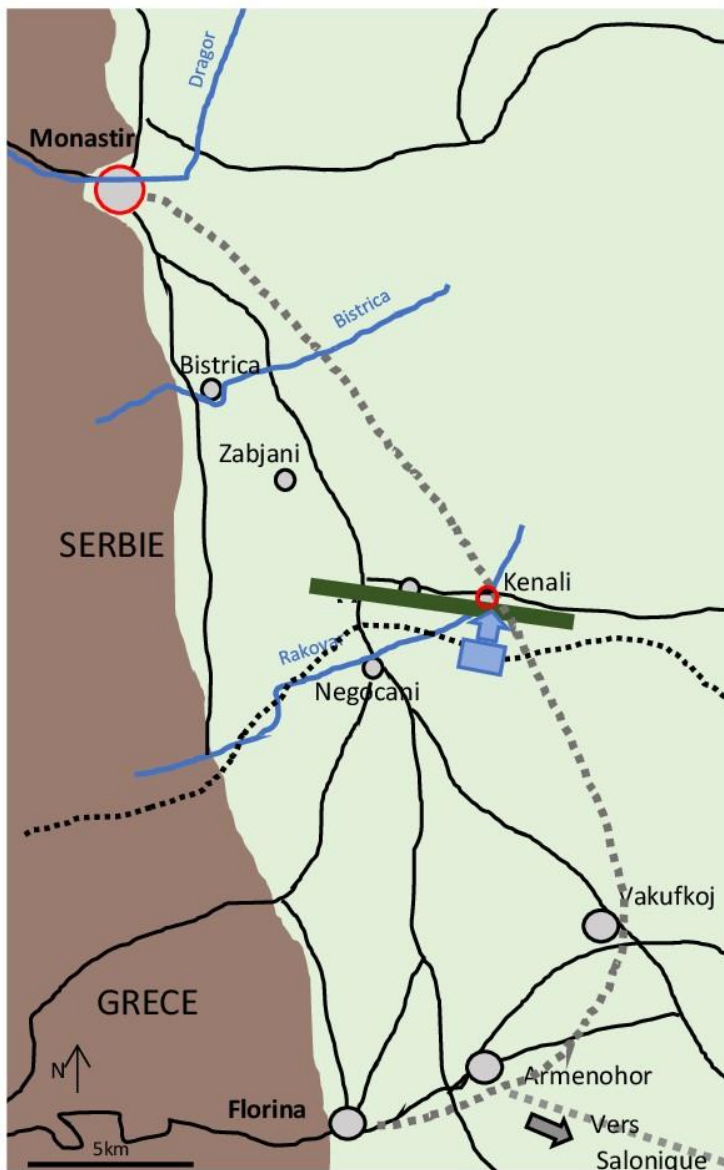
Reliez-les par des flèches successives.

⇒ A partir des informations contenues dans l'exposition expliquez le **changement important intervenu en 1913** dans l'histoire de la Guadeloupe et **qui explique la mobilisation du soldat Magloire JASON**

⇒ Localisez et nommez le **front** correspondant à son dernier combat (aidez-vous de la page suivante). A partir des informations contenues dans l'exposition expliquez pourquoi un certain nombre de Guadeloupéen comme lui ont pu y participer ?

Acte 2 : L'expérience combattante et la mort du soldat Magloire JASON dans une guerre « moderne »

Croquis des combats de Kenali le jour de la blessure du soldat JASON c'est-à-dire le



Réal : OB, sources : JMO, historiques régimentaires et <http://www.les-tirailleurs.fr>

Parmi ces sources, soulignez celle qui vous permet d'aborder cette partie du parcours de Magloire JASON

- acte de naissance - acte de décès - acte de mariage
- fiche matricule - fiche Mort pour la France
- Journal des Marches et Opérations (JMO) - Historiques régimentaires

A l'aide de cette source et pour les derniers combats du soldat Magloire JASON:

- ⇒ Relevez un élément qui indiquent la **violence des combats**.
- ⇒ Relevez des éléments qui indiquent qu'il s'agit d'une **guerre de position**
- ⇒ Complétez la légende du croquis :

- | | | | |
|-----------|-------------|---------------------|-----------|
| Montagnes | Plaines | villes et localités | Frontière |
| Routes | Cours d'eau | Voie ferrée | |
- Positions tenues par les troupes , ennemis des Français sur ce front.
- Attaque du auquel appartient le soldat JASON.
- Objectifs de l'offensive française : expliquez d'après des indications du croquis en quoi ces objectifs sont importants, stratégiques.

A plus petite échelle sur la carte de la première page du livret :

- ⇒ Datez le **lieu des combats** où le soldat Jason est blessé.
- ⇒ Suivez l'**évacuation** du soldat Jason par un trait fléché des combats jusqu'au lieu de son décès.
- ⇒ Localisez d'une croix le **lieu de son décès** avec la date correspondante

A partir des informations contenues dans l'exposition, expliquez **comment le soldat Jason a été pris en charge de sa blessure à son décès**.

Acte 3 - Le souvenir du soldat Magloire JASON dans la mémoire de la guerre

Reportez les **inscriptions** sur la **partie haute**.

Placez le nom du soldat JASON dont vous suivez les traces là où il doit y figurer.

Expliquez l'expression « **mort pour la France** »

Comment comprenez-vous l'expression « **nos morts** » ?

Dessinez, identifiez et donnez la signification de la **croix** au sommet du monument

Identifiez et dessinez les différents **symboles** qui rattachent ce monument à la **République**

A partir des informations contenues dans l'exposition :
Expliquez le terme « commémorer ».

Donnez la date d'inauguration de ce monument.

A partir des informations contenues dans l'exposition expliquez pourquoi ce monument diffère de la plupart de ceux des autres communes de Guadeloupe.

Quelle date a été retenue pour y organiser chaque année des commémorations ?

Sur la carte de la première page du livret localisez ce monument avec le figuré de votre choix.

Dessinez **la statue du soldat**.

Identifiez les éléments caractéristiques d'un combattant français de 1914/18.

A votre avis, pourquoi l'artiste a-t-il choisi de représenter le soldat avec une écharpe autour du cou ?

